

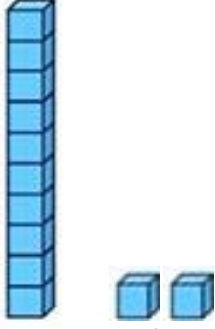


Adı Soyadı : .....

Numarası : .....

### Konu: Onluk ve Birlikleri Tanıyalım Etkinliği 4

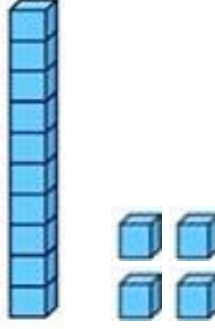
Aşağıdaki şekillerin kaç onluk ve kaç birlik oluştuğunu örnekteki gibi yazalım.



1 onluk 2 birlik

12

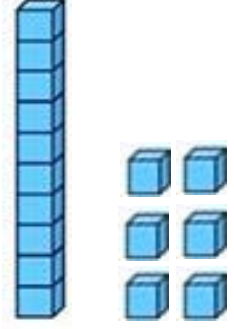
On iki



.... onluk .... birlik

.....

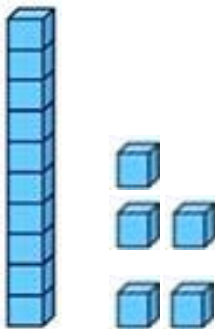
.....



.... onluk .... birlik

.....

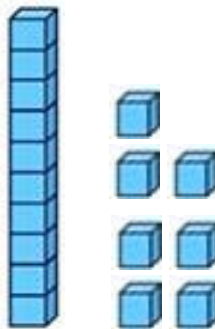
.....



.... onluk .... birlik

.....

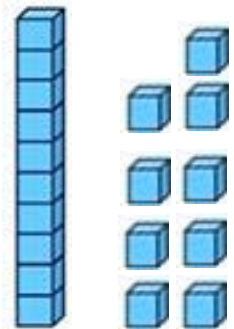
.....



.... onluk .... birlik

.....

.....



.... onluk .... birlik

.....

.....

Aşağıdaki abaküslerin gösterdiği sayıları örnekteki gibi yazalım.

